

# 期末数学素养形成评价卷

## 一、选一选。(把正确答案的序号填在括号里)(18分)

1. 同学们玩“我说你做”的游戏,没有按口令做的是( )。



抬起你的右腿。

①



②

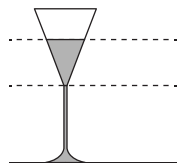


③

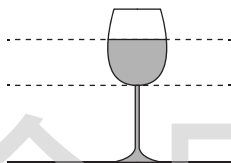


2. 如图所示,三个杯子中饮料最少的是( )。

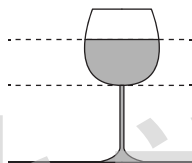
①



②



③



3. 按规律填数,下面填写正确的是( )。

①

11 10 11 8 7

②

12 13 16 18 20

③


3 5 7 9 11

4. 爷爷每天晚上6时半开始看新闻,下面的钟面正确的是( )。


①



②



③



5. 三位同学玩猜数游戏,答案是13的是( )。

①



十位上是1,  
个位上是1。

②



从小到大一个一个地数,  
它是11后面的第3个数。

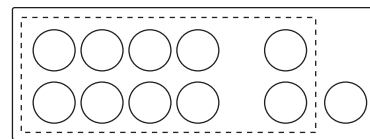
③



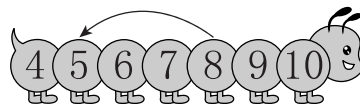
这个数在12和14的中间。

6. 下面计算“8+3”的想法中,不正确的是( )。

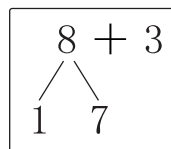
①



②




③



## 二、按要求做一做。(34分)

7.



每人一杯,够吗?画“√”。(4分)

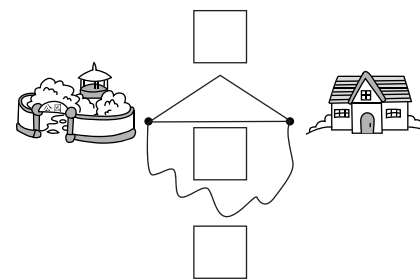
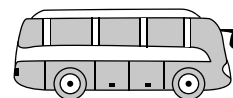
够 ☐

不够 ☐

8. 按要求画一画。(6分)

(1)大的画“√”。

(2)走哪条路最近?画“√”。



9. 根据描述猜一猜,连一连。(4分)

它的面都是平平的,  
而且有不平的面。



它方方正正的,  
每个面都一样。

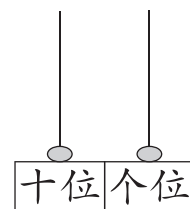
它很调皮,能任意  
滚动。



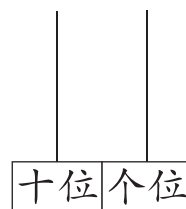
它上下一样粗,  
而且也能滚动。

10. 写一写,画一画。(6分)

(1)写出下面计数器上表示的数。



(2)用两颗珠子还能表示什么数?画一画,写一写。




11. 填一填。(6分)

2 7 4 5 0 12 9 15

(1) 上面的数, 大于 7 的有 \_\_\_\_\_。

(2) 从左数, 0 排在第 ( ) 个。圈出 4 右边的第 5 个数。

12. 分一分。(8分)



分法一: \_\_\_\_\_

分法二: \_\_\_\_\_

三、按要求算一算。(26分)

13. 直接写出得数。(10分)

3+6= 5-3= 8+7= 10-4= 14+3=  
7-2= 0+8= 9-9= 5+6= 18-2=

14. 照样子涂一涂, 算一算。(8分)

(1) ● ● ○ ○ ○

$$2+3=\square$$

$$5-2=\square$$

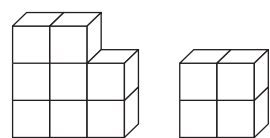
(2) ○ ○ ○ ○ ○  
○ ○ ○ ○ ○

$$\square+\square=\square$$

$$\square-\square=\square$$

15. 看图列式计算。(8分)

(1) 一共有多少块 ?



$$\square\bigcirc\square=\square$$

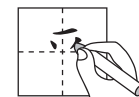
(2) 原来有 15 只蜜蜂。



$$\square\bigcirc\square=\square$$


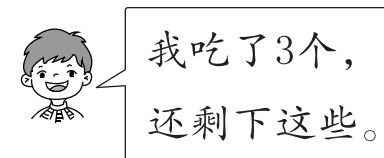
四、解决问题。(22分)

16. 小来同学在练习写自己名字中的“来”字, 一共有 7 笔, 还剩下几笔没写?(4分)



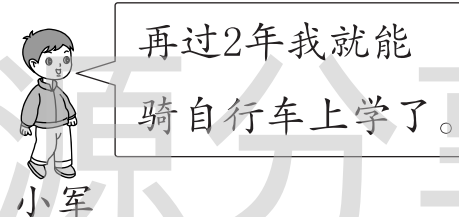
$$\square\bigcirc\square=\square$$

17. 一共有多少个 ?(5分)



$$\square\bigcirc\square=\square$$


18. 小军今年多少岁?(5分)



《中华人民共和国  
道路交通安全法条例》  
规定年满12周岁的学  
生可以骑自行车上路。

$$\square\bigcirc\square=\square$$

19. 摸牌游戏。(8分)



(1) 欢欢摸的三张牌的和是多少?

$$\square\bigcirc\square\bigcirc\square=\square$$

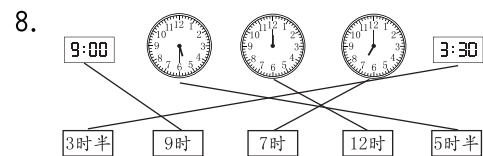
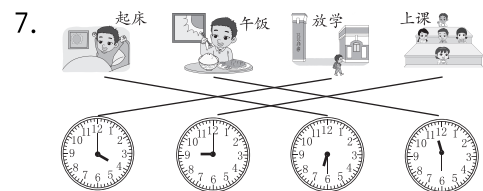
(2) 明明也摸了三张牌, 它们的和是 10, 他摸的第三张牌上的数是多少?

$$\square\bigcirc\square\bigcirc\square=\square$$

2. 3:00 10:30 10:00

3 时 10 时半 10 时

3. ③ 4. ① 5. ② 6. ③



9. ☐ ☒

10. ☒ ☒ ☐  
☐ ☐ ☒

11. ( ) ( ) (△)



14. ①和③都是整时,②和④都是半时。

15. 第1幅图表示上午10时,第2幅图表示晚上10时。

16. 3 时

### 期末数学素养形成评价卷

1. ② 2. ① 3. ③ 4. ① 5. ③

6. ②

7. ☒ ☐

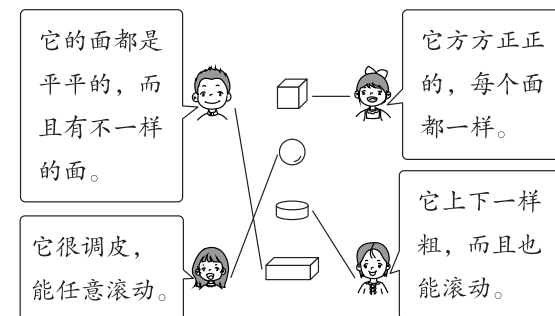
8. (1) ☒ ☐

(2) ☐

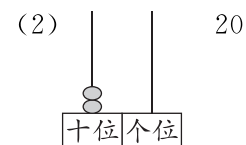
☒

☐

9.



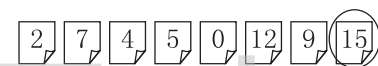
10. (1) 11



(答案不唯一)

11. (1) 12、9、15

(2) 5



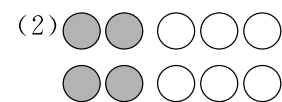
12. ①④⑤ ②③⑥

①③⑤ ②④⑥

13. 9 2 15 6 17

5 8 0 11 16

14. (1) 5 3



4 + 6 = 10 10 - 4 = 6

(答案不唯一)

15. (1) 8 + 4 = 12

(2) 15 - 3 = 12

16. 7 - 3 = 4

17. 9 + 3 = 12

18. 12 - 2 = 10

19. (1) 4 + 2 + 3 = 9

(2) 10 - 5 - 2 = 3